

교과 학력 진단평가

1학년 1학기

권장 시험 시간 50분

유의사항

- ※ 총 문항 수(20문항)를 확인해 주세요.
- ※ 권장 시험 시간(50분) 안에 문제를 풀어 주세요.

시험일시 _____ 년 _____ 월 _____ 일

이름 _____




시험 본 후 답을 매스티안 홈페이지(<http://www.mathtian.com>)에 방문하여 양식에 맞게 입력해 보세요.
「교과 학력 진단평가 결과지」를 직접 받아보실 수 있습니다.


교과 학력 진단평가

1학년 1학기

01 그림의 수를 두 가지 방법으로 올바르게 읽은 것은 어느 것일까요? ()
3점

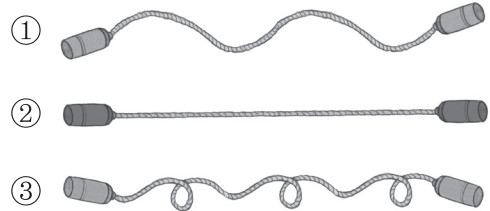


- ① 넷, 사
- ② 셋, 삼
- ③ 여섯, 육
- ④ 일곱, 칠
- ⑤ 여덟, 팔

02  모양에 대하여 바르게 설명한 것은 어느 것일까요? ()
3점

- ① 전체가 둥근 모양입니다.
- ② 한쪽 방향으로 잘 굴러갑니다.
- ③ 뾰족한 부분이 있습니다.
- ④ 평평한 부분이 없습니다.
- ⑤ 모든 방향으로 잘 쌓을 수 있습니다.

03 길이를 비교하여 가장 긴 줄넘기를 고르세요. ()
3점



04 두 수를 모은 수가 더 작은 쪽을 고르세요.
4점

가 3, 6

나 5, 2

()

05 재석이는 색종이를 10장씩 4묶음과 낱장으로 9장을 샀습니다. 재석이가 산 색종이는 모두 몇 장일까요?
4점

()장

06 두 수의 합과 차를 구하세요.
4점

5, 3

합:
차:

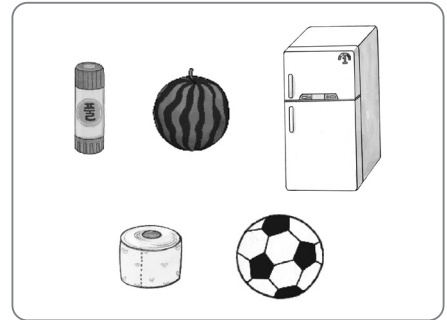
07 수의 순서에 맞게 빈칸에 알맞은 수를 써
4점 넣으세요.



08 구슬을 미희는 6개 가지고 있고, 준수는
4점 8개 가지고 있습니다. 구슬을 더 적게 가지고 있는 사람은 누구일까요?

()

09 어느 방향에서 보아도 ● 모양인 물건은
5점 모두 몇 개일까요?

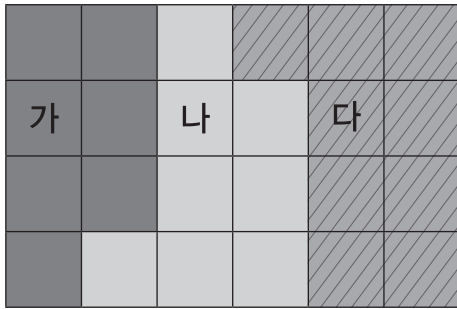


()개

10 사탕이 8개 있었습니다. 그중에서 세찬
5점 이가 2개를 먹었습니다. 남은 사탕은 몇 개일까요?

()개

11 한 칸의 넓이는 모두 같습니다. 가, 나, 다
5점 중 가장 넓은 것은 어느 것일까요?



()

12 감은 서른여덟 개가 있고, 배는 10개씩
5점 4묶음과 날개 2개가 있습니다. 감과 배
중 어느 과일이 더 많을까요?

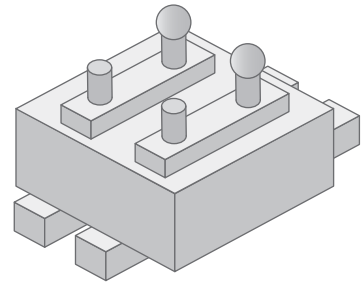
()

13 5보다 크고 9보다 작은 수는 모두 몇 개
5점 일까요?



()개

14 다음 모양을 만드는 데 가장 많이 사용한
6점 모양은 어느 것일까요? ()



- ① 모양 ② 모양 ③ 모양

15 놀이터에 여자 어린이가 5명 있고, 남자
6점 어린이는 여자 어린이보다 3명 적게 있
습니다. 놀이터에 있는 어린이는 모두 몇
명일까요?

()명

16 석진, 승호, 신영이가 시소를 타고 있습니다. 두 번째로 가벼운 사람은 누구일까요?
6점





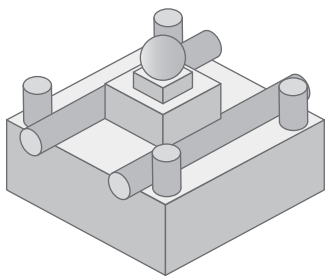
()

17 설명하는 수가 다른 것을 찾아 기호를 쓰세요.
6점

- 가 40과 3
- 나 38보다 4 큰 수
- 다 45보다 2 작은 수
- 라 10개씩 묶음의 수가 4, 날개의 수가 3인 수

()

18 다음 모양을 만드는 데  모양은  모양보다 몇 개 더 많이 사용했을까요?
7점



()개

19 4장의 수 카드 중에서 2장을 골라 한 장은 10개씩 묶음의 수로 하고, 다른 한 장은 날개의 수로 하여 몇십몇을 만들려고 합니다. 만들 수 있는 몇십몇 중에서 가장 큰 수는 무엇일까요?
7점



()

20 4장의 수 카드 중에서 2장을 골라 두 수의 차를 구하려고 합니다. 차가 가장 큰 뺄셈식의 값을 구하세요.
8점



()

☺ 수고하셨습니다.
빠진 문제가 없는지 다시 한번 확인하세요.